

Školské kolo Geografickej olympiády pre ZŠ a 8-ročné gymnáziá

53. ročník, školský rok 2024/2025

Písomný test pre kategóriu E – ZŠ

(8. a 9. ročník) a OG (3. a 4. ročník)

1. Alkoss helyes párokat: párosítsd a turisztikai helyszíneket azzal a jellemző tulajdonsággal, amiért a turisták felkeresik őket.

1. Piešťany	fürdő
2. Detva	folklórfesztiválok
3. Košice	állatkert
4. Zuberec	skanzen
5. Levoča	fontos zárándokhely

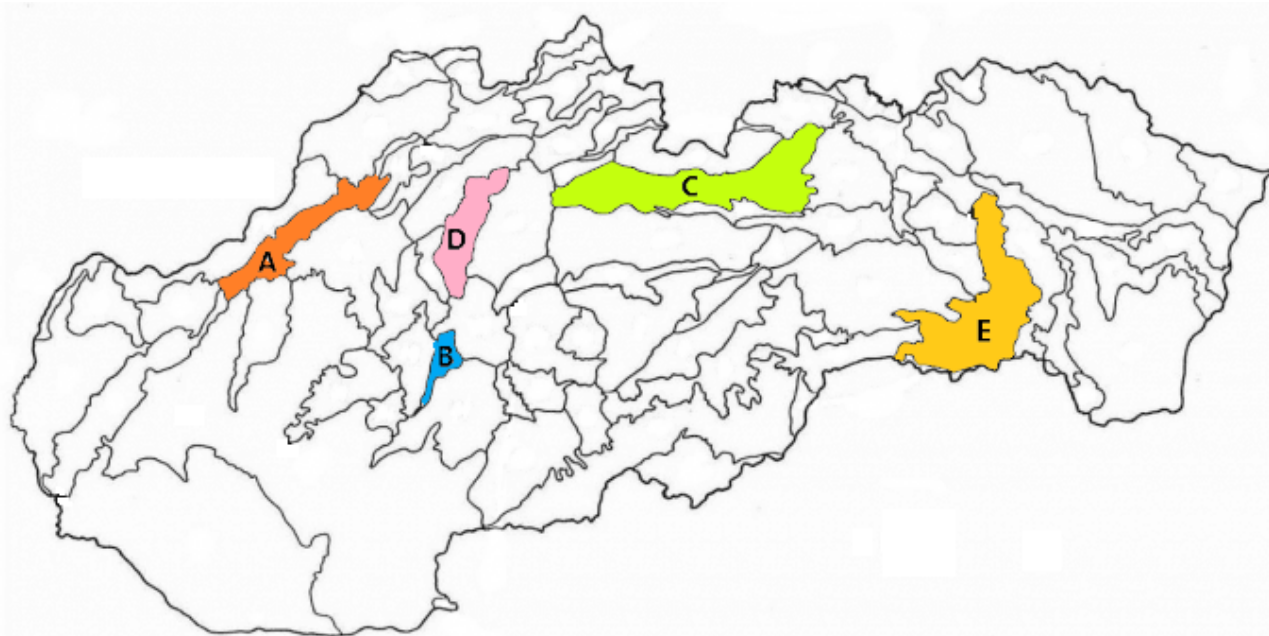
2. Ismered Szlovákia leglátogatottabb várait és kastélyait? Rendezd a következő betűket úgy, hogy azok a közülük leghíresebbek nevét képezzék! **(Szlovákul!)**

1.	2.	4.	5.	3.		
D	E	Í	N	V		
1.	3.	2.	4.	5.	6.	
B	C	E	K	O	V	
4.	5.	6.	3.	1.	2.	
EČ	N	O	R	S	T	
6.	5.	2.	3.	1.	4.	
C	E	H	RO	U	V	
1.	3.	5.	6.	7.	2.	4.
ČE	EN	KA	ME	Ň	RV	Ý

3. Párosítsd a következő medencéket a megfelelő jellemzőkkel!

1. Zólyomi-medence (Zvolenská kotlina)	R1-es gyorsforgalmi út
2. Felső-nyitrai-medence (Hornonitrianska kotlina)	befejezte a barnaszénbányászatot
3. Kassai-medence (Košická kotlina)	Szlovákia harmadik legnagyobb városa
4. Hernád-medence (Hornádská kotlina)	a történelmi Szepesség régiója
5. Rozsnyói-medence (Rožňavská kotlina)	Krásna Hôrka (Krasznahorka) látképe
6. Délszlovákiai-medence (Juhoslovenská kotlina)	részét képezi a Losonci-medence (Lučenská kotlina)
7. Zsolnai-medence (Žilinská kotlina)	gyógyfürdő Rajecké Teplicében

4. A térképen színessel jelöltük Szlovákia néhány medencéjét. A térkép alatti mondatokban válaszd ki a megfelelő kifejezéseket.



A térképen az **A** -vel jelzett terület a Myjavai-medence (Myjavská kotlina) / Trencsényi-medence (Trenčianska kotlina) / Vágmente (Považské podolie). Itt található például a következő városok: Trenčín, Dubnica nad Váhom, Hlohovec / Ilava / Piešťany.

A térképen az **B** -vel jelzett terület a Rozsnyói (Rožňavská) / Zólyomi (Zvolenská) / Zsári- (Žiarska) medence. Átfolyik rajta a Garam / Hernád / Sajó folyó.

A **C** betűvel jelölt terület a Tártaalji-medence (Podtatranská kotlina). Két részre osztható: a Alsókubini- (Dolnokubínska) / Liptói- (Liptovská) / Rózsáhegyi- (Ružomberká), illetve a Béla- (Belianska) / Poprádi- (Popradská) / Vazseci- (Važecká) medencére.

A térképen az **D** -vel jelzett terület a Felső-nyitrai- (Hornonitrianska) / Turóci- (Turčianska) / Zsolnai- (Žilinská) medence. A medencét körbeveszi a Kis-Fátra és a(z) Alacsony-Tátra / Javorníky / Nagy-Fátra hegység.

A térképen az **E** -vel jelzett terület a Hernád- (Hornádska) / Kassai- (Košická) / Pelsőci- (Pliešovská) medence. A völgykatlan keleten a Szalánci-hegységgel (Slanské vrchy) / Szlovák-karszttal (Slovenský kras) / Vihorlat-hegységgel határos.

5. Igazak-e az alábbi állítások a szlovákiai medencékkel és városokkal kapcsolatban? Válaszd az **IGEN** vagy a **NEM** lehetőséget.

a) A medencék Szlovákia területének körülbelül kétharmadát teszik ki.

a)	b)
IGEN	NEM

b) Szlovákia legészakibb pontja az Árvai-medence területén található.

a)	b)
IGEN	NEM

c) A Kassai-medence Szlovákia legkeletibb medencéje.

a)	b)
IGEN	NEM

d) Kežmarok városa a Tatraalji-medencében található.

a)	b)
IGEN	NEM

e) Zvolen a Zólyomi-medence legnagyobb városa.

a)	b)
IGEN	NEM

f) A Dél-szlovákiai-medence nagyobb területtel rendelkezik, mint a Tatraalji-medence.

a)	b)
IGEN	NEM

g) A Dubeň-hegyről a Zsolnai-medencére nyílik kilátás.

a)	b)
IGEN	NEM

h) A Dél-szlovákiai-medencében az éves átlagos csapadékmennyiség alacsonyabb, mint a Hernád-medencében.

a)	b)
IGEN	NEM

i) Martin városának nevében 100 évvel ezelőtt még szerepelt a "szent" szó.


a)	b)
IGEN	NEM

j) A Szlovák Mezőgazdasági Egyetem Nyitrán (Nitra) található.

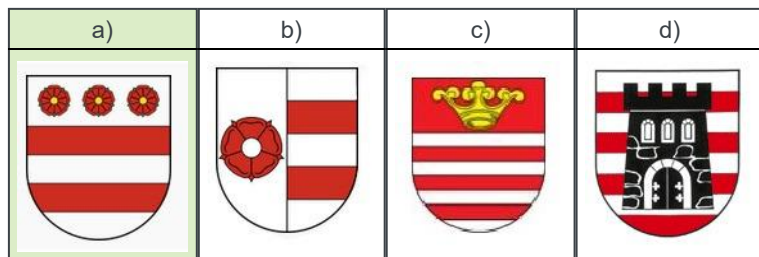
a)	b)
IGEN	NEM

6. A Nemzetközi Gyermeknapon, egy kvíz során a gyerekeknek Szlovákia legnagyobb városainak címereit kellett felismerniük. Aki eltalálta, hogy néz ki a kiválasztott város címere, az lemosható tetoválást nyert. Próbáld ki te is. Jelöld meg az alábbi városok címereit:

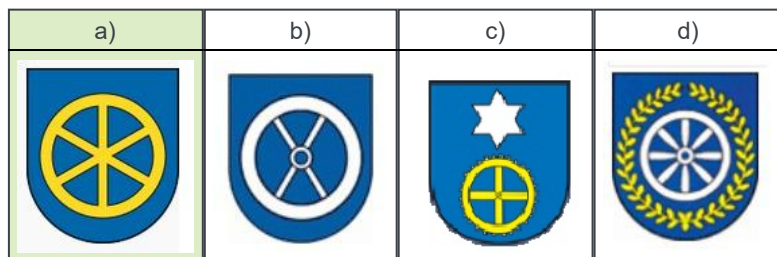
a) **KASSA (Košice)**



b) PREŠOV



c) TRNAVA



d) Janka bárányt ábrázoló tetoválást nyert. Melyik városé volt a címer?

a)	b)	c)
Banská Bystrica	Martin	Trenčín

e) Igor is nyert tetoválást, amit azonnal a karjára ragasztott. Játék közben kidörzsölődött a tetoválása és este már csak egy nagy zöld folt volt a karján. Melyik város címerét kapta Igor?

a)	b)	c)
Nitra	Martin	Žilina

7. Válaszd ki a helyes választ.

a) Az alábbi városok közül melyiknek van nemzetközi repülőtere?

a)	b)	c)	d)	e)
Prešov	Žilina	Martin	Banská Bystrica	Trnava

b) Melyik a „Divat városa“?

a)	b)	c)	d)	e)
Bratislava	Trenčín	Trnava	Žilina	Martin

c) Melyik városban rendezik a Nemzetközi Békemaratont?

a)	b)	c)	d)	e)
Bratislava	Banská Bystrica	Nitra	Košice	Prešov

d) Melyik város a „szlovák Róma“?

a)	b)	c)	d)	e)
Košice	Bratislava	Trnava	Nitra	Banská Bystrica

e) Melyik város közelében található a szlovák falut bemutató múzeum?

a)	b)	c)	d)	e)
Martin	Bratislava	Trenčín	Košice	Trnava

f) Melyik városban található a Nemzeti temető, ahol sok ismert személy van eltemetve?

a)	b)	c)	d)	e)
Nitra	Prešov	Martin	Banská Bystrica	Trnava

g) Hol található Szlovákia legnagyobb lakótelepe?

a)	b)	c)	d)	e)
Bratislava	Banská Bystrica	Nitra	Košice	Prešov

h) Melyik város fölött magaslik az Urpín-csúcs?

a)	b)	c)	d)	e)
Žilina	Prešov	Banská Bystrica	Martin	Trenčín

i) Melyik várost jellemzik a következő fogalmak: Piramis, Zobor, R1?

a)	b)	c)	d)	e)
Bratislava	Trnava	Trenčín	Banská Bystrica	Nitra

j) Hol keresheted fel a Solivar múzeumot?

a)	b)	c)	d)	e)
Prešov	Košice	Trenčín	Bratislava	Martin

k) Hol található az Alkotmánybíróság székhelye?

a)	b)	c)	d)	e)
Košice	Bratislava	Trnava	Nitra	Banská Bystrica

l) Melyik város régi megnevezése Istropolis?

a)	b)	c)	d)	e)
Banská Bystrica	Žilina	Trenčín	Nitra	Bratislava


8. Janinak egy naptár lóg a szobája falán, amelyen Szlovákia megyeszékhelyeinek éjszakai fényképei láthatók. Határozd meg helyesen azokat a városokat, amelyek fényképei a naptár egyes oldalain vannak.



JANUÁR



FEBRUÁR



MÁRCIUS



ÁPRILIS



MÁJUS



JÚNIUS

JANUÁR -

Nitra / Trnava / Bratislava / Žilina / Trenčín /
Prešov / Banská Bystrica / Košice

ÁPRILIS -

Prešov / Košice / Banská Bystrica / Trenčín /
Bratislava / Žilina / Trnava / Nitra

FEBRUÁR -

Banská Bystrica / Žilina / Trnava / Košice /
Trenčín / Bratislava / Nitra / Prešov

MÁJUS -

Žilina / Košice / Trenčín / Trnava / Nitra /
Prešov / Bratislava / Banská Bystrica

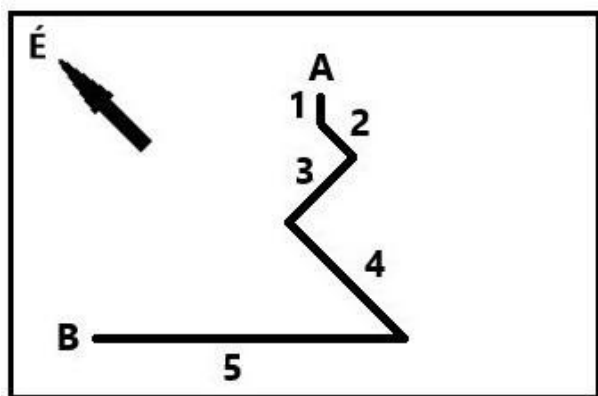
MÁRCIUS -

Košice / Prešov / Trnava / Trenčín / Žilina /
Nitra / Banská Bystrica / Bratislava

JÚNIUS -

Trnava / Prešov / Trenčín / Bratislava / Nitra /
Banská Bystrica / Žilina / Košice

9. Az alábbi rajzon egy turista útvonala látható, aki a hegycsúcsra való feljutás után visszatért (A pontból B pontba).



a) Rendeld hozzá helyesen az útvonalszakaszok számát az egyes világtájakhoz.

NY felé –	1	/	2	/	3	/	4	/	5	/	egyik sem
É felé –	1	/	2	/	3	/	4	/	5	/	egyik sem
K felé –	1	/	2	/	3	/	4	/	5	/	egyik sem
DK felé –	1	/	2 a 4	/	3	/	4	/	5	/	egyik sem
D felé –	1	/	2 a 4	/	3	/	3 a 4	/		/	egyik sem
DNY felé –	1	/	2	/	3	/	4	/	5	/	egyik sem
ÉNY felé –	2 a 3	/	2 a 4	/	3 a 4	/	5	/		/	egyik sem

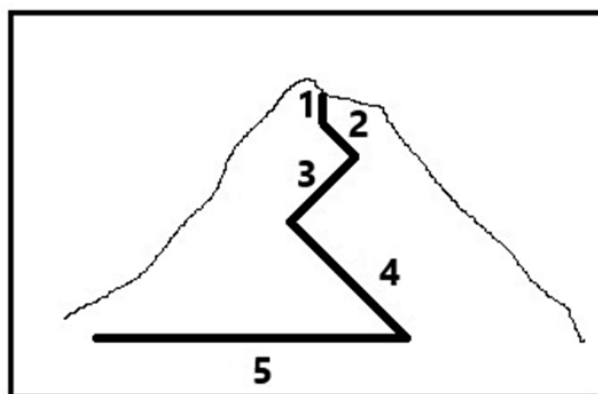
b) Lefelé menet a turista egymás után találkozott három másik turistacsoporttal, akik még csak a csúcra kapaszkodtak (ugyanazt az utat követve). Milyen irányban haladtak a turisták, akikkel találkozott:

- a 3-as szakaszon? – DK / ÉK / K / NY felé
- a 4-es szakaszon? – D / DK / É / ÉNY felé
- az 5-ös szakaszon? – DK / ÉNY / K / NY felé

c) Milyen irányszög alatt sétáltak a 2-es szakaszon a csúcra felkapaszkodó turisták? 315° / 180° / 135° / 0° .

Milyen irányszög alatt sétáltak a 1-es szakaszon a csúcra felkapaszkodó turisták? 180° / 225° / 0° / 45° .

d) A következő képen a turisták feljutási útvonala van megrajzolva oldalról nézve. Igazak az alábbi állítások?



Az 1. szakaszban a turisták végig ugyanazt a szintvonalat követték.

a)	b)
IGAZ	HAMIS

A turisták a legtöbb szintvonalat a 4. szakaszon lépték át.

a)	b)
IGAZ	HAMIS

A 3. szakaszon több szintvonalat léptek át a turisták, mint a 2. szakaszon.

a)	b)
IGAZ	HAMIS

10. A FELADAT MEGOLDÁSÁNÁL HASZNÁLD A VILÁGATLASZT!

Bandi külföldön nyaralt a szüleiével. Hozott haza egy pólót, rajta az általuk meglátogatott európai ország térképével (a képen). Használd a világtatlaszt, hogy megtaláld a megfelelő kifejezéseket az ország jellemzőiből.

a) Az országot a szubtrópusi / mérsékelt / trópusi éghajlat jellemzi.

b) Az ország határos
 / / .

c) Az országban
 / /

folyik.

d) Az állam második legnagyobb városa
 / / .

e) Az ország legmagasabb csúcsa a(z)
 / / .

f) Az ország fő vallása a
 / / keresztény
 vallás.

g) Jelenleg ott
 / /
 / idő van, mint Londonban.

h) Az országban Euboia a második legnagyobb / / .

i) Ugyanaz a délkör halad át az országon, mint / / városán.

j) Milyen objektumot jelöl azoknak a helyeknek a neve, amelyeket Bandi meglátogatott? Alkoss megfelelő párokat.

1. Skópelos	sziget
2. Taygetos	hegység
3. Pýrgos	város



11. A FELADAT MEGOLDÁSÁNÁL HASZNÁLD SZLOVÁKIA ATLASZÁT!

Hozz létre olyan fogalompárokat, amelyek összetartoznak.

FIGYELEM! A fogalom csak akkor számít besoroltnak, ha mellette megjelenik egy kék gombostű. Ha a fogalom már eleve jó helyre lett besorolva, elég, ha egy kicsit megmozdítod azt.

1. Dunamenti-dombvidék (Podunajská pahorkatina)	<input type="text" value="Dubno"/>	<input type="text" value="Dubník"/>	<input type="text" value="Dubovce"/>	<input type="text" value="Dúbrava"/>
2. 19° 30' keleti hosszúság	<input type="text" value="Dubno"/>	<input type="text" value="Dubník"/>	<input type="text" value="Dubovce"/>	<input type="text" value="Dúbrava"/>
3. Cerová vrchovina	<input type="text" value="Dubno"/>	<input type="text" value="Dubník"/>	<input type="text" value="Dubovce"/>	<input type="text" value="Dúbrava"/>
4. 17° 15' keleti hosszúság	<input type="text" value="Dubno"/>	<input type="text" value="Dubník"/>	<input type="text" value="Dubovce"/>	<input type="text" value="Dúbrava"/>
5. Érsekújvári (Nové Zámky) járás	<input type="text" value="Dubno"/>	<input type="text" value="Dubník"/>	<input type="text" value="Dubovce"/>	<input type="text" value="Dúbrava"/>
6. Skalica-i járás	<input type="text" value="Dubno"/>	<input type="text" value="Dubník"/>	<input type="text" value="Dubovce"/>	<input type="text" value="Dúbrava"/>
7. Tátraalji-medence (Podtatranská kotlina)	<input type="text" value="Dubno"/>	<input type="text" value="Dubník"/>	<input type="text" value="Dubovce"/>	<input type="text" value="Dúbrava"/>
8. 20° keleti hosszúság	<input type="text" value="Dubno"/>	<input type="text" value="Dubník"/>	<input type="text" value="Dubovce"/>	<input type="text" value="Dúbrava"/>
9. 18° 24' keleti hosszúság	<input type="text" value="Dubno"/>	<input type="text" value="Dubník"/>	<input type="text" value="Dubovce"/>	<input type="text" value="Dúbrava"/>

10. Chvojnícka pahorkatina	Dubno	Dubník	Dubovce	Dúbrava
11. Rimaszombati (Rimavská Sobota) járás	Dubno	Dubník	Dubovce	Dúbrava
12. Liptovský Mikuláš-i járás	Dubno	Dubník	Dubovce	Dúbrava

A TESZT VÉGET ÉRT!