

# Školské kolo Geografickej olympiády pre ZŠ a 8-ročné gymnáziá

53. ročník, školský rok 2024/2025

Písomný test pre kategóriu E – ZŠ

(8. a 9. ročník) a OG (3. a 4. ročník)

1. Utvor správne dvojice: k zoznamu lokalít cestovného ruchu priraď dôvod, kvôli ktorému ich turisti navštevujú.

1. Piešťany	kúpele
2. Detva	folklórne slávnosti
3. Košice	zoologická záhrada
4. Zuberec	skanzen
5. Levoča	významné pútnické miesto

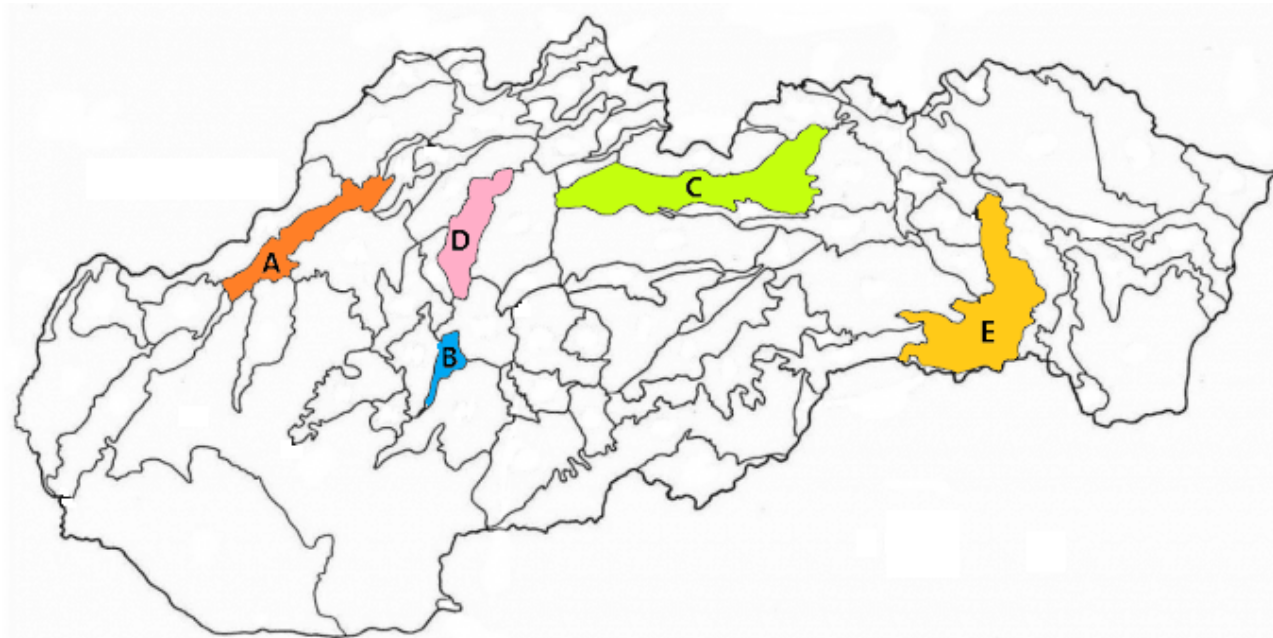
2. Poznáš naše najnavštevovanejšie hrady a zámky? Zoraď nasledujúce písmená tak, aby z nich vznikli názvy najznámejších z nich.

1.	2.	4.	5.	3.		
D	E	Í	N	V		
1.	3.	2.	4.	5.	6.	
B	C	E	K	O	V	
4.	5.	6.	3.	1.	2.	
EČ	N	O	R	S	T	
6.	5.	2.	3.	1.	4.	
C	E	H	RO	U	V	
1.	3.	5.	6.	7.	2.	4.
ČE	EN	KA	ME	Ň	RV	Ý

3. K nasledujúcim kotlinám priraď správne charakteristiky.

1. Zvolenská kotlina	rýchlostná cesta R1
2. Hornonitrianska kotlina	ukončená ťažba hnedého uhlia
3. Košická kotlina	tretie najväčšie mesto na Slovensku
4. Hornádska kotlina	historický región Spiš
5. Rožňavská kotlina	výhľad na Krásnu Hôrku
6. Juhoslovenská kotlina	jej súčasťou je Lučenská kotlina
7. Žilinská kotlina	kúpele v Rajeckých Tepliciach

4. Na mape sú farebne vyznačené niektoré kotliny Slovenska. Vyber správne pojmy v ich charakteristikách.



Písmeno **A** na mape označuje  /  /  . Nachádzajú sa tam napríklad mestá Trenčín, Dubnica nad Váhom,  /  /  .

Písmenom **B** je označená  /  /  kotlina. Preteká ňou rieka  /  /  .

Podtatranská kotlina je označená písmenom **C** . Člení sa na  /  /  a  /  /  kotlinu.

Písmeno **D** je umiestnené v  /  /  kotline. Táto kotlina je obklopená pohoriami Malá Fatra a  /  /  .

Písmeno **E** označuje  /  /  kotlinu. Táto kotlina na východe susedí s  /  /  .

5. Sú nasledujúce tvrdenia o slovenských kotlinách a mestách pravdivé? Vyber **ÁNO** alebo **NIE** .

a) Kotliny tvoria približne dve tretiny územia Slovenska.

a)	b)
ÁNO	NIE

b) Na území Oravskej kotliny sa nachádza najsevernejší bod Slovenskej republiky.

a)	b)
ÁNO	NIE

c) Košická kotlina je najvýchodnejšie položenou kotlinou Slovenska.

a)	b)
ÁNO	NIE

d) Mesto Kežmarok leží v Podtatranskej kotline.

a)	b)
ÁNO	NIE

e) Zvolen je najväčšie mesto vo Zvolenskej kotline.

a)	b)
ÁNO	NIE

f) Juhoslovenská kotlina má väčšiu rozlohu ako Podtatranská kotlina.

a)	b)
ÁNO	NIE

g) Z vrchu Dubeň máme výhľad na Žilinskú kotlinu.

a)	b)
ÁNO	NIE

h) Juhoslovenská kotlina má nižší priemerný ročný úhrn zrážok ako Hornádska kotlina.

a)	b)
ÁNO	NIE

i) Mesto Martin malo ešte pred 100 rokmi v názve slovo „svätý“.


a)	b)
ÁNO	NIE

j) Slovenská poľnohospodárska univerzita sídli v Nitre.

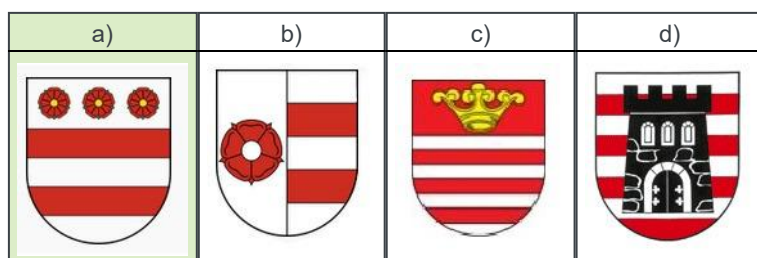
a)	b)
ÁNO	NIE

6. Na medzinárodný deň detí deti súťažili v „poznávačke“ erbov našich najväčších miest. Ten, kto uhádol, ako vyzerá erb vybraného mesta, si mohol tetovačku vziať. Skús to aj ty. Označ obrázok, na ktorom je erb:

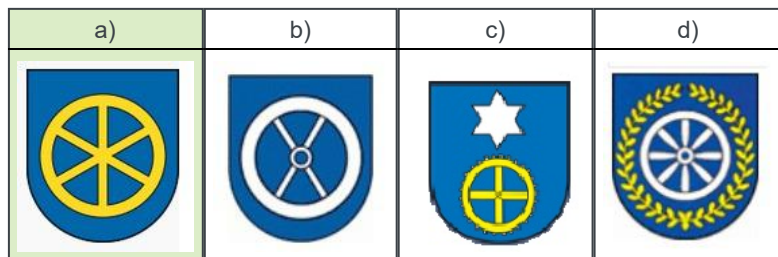
a) **KOŠÍC**



b) **PREŠOVA**



c) TRNAVY



d) Janka získala tetovačku, na ktorej bol zobrazený baránok. Ktorému mestu erb patril?

a)	b)	c)
Banskej Bystrici	Martinu	Trenčínu

e) Igor vyhral tetovačku, ktorú si hneď nalepil na ruku. Pri hre sa mu tetovačka ošúchala a večer mal na ruke už iba veľkú zelenú machuľu. Znak ktorého mesta získal Igor?

a)	b)	c)
Nitry	Martina	Žiliny

7. Vyber správnu odpoveď.

a) Medzinárodné letisko má mesto ...

a)	b)	c)	d)	e)
Prešov	Žilina	Martin	Banská Bystrica	Trnava

b) „Mestom módy“ sme nazývali ...

a)	b)	c)	d)	e)
Bratislavu	Trenčín	Trnavu	Žilinu	Martin

c) Medzinárodného maratónu mieru sa môžeme zúčastniť v ...

a)	b)	c)	d)	e)
Bratislave	Banskej Bystrici	Nitre	Košiciach	Prešove

d) Titul „Slovenský Rím“ patrí k mestu ...

a)	b)	c)	d)	e)
Košice	Bratislava	Trnava	Nitra	Banská Bystrica

e) Múzeum slovenskej dediny sa nachádza v blízkosti mesta ...

a)	b)	c)	d)	e)
Martin	Bratislava	Trenčín	Košice	Trnava

f) Veľa významných osobností je pochovaných na Národnom cintoríne v ...

a)	b)	c)	d)	e)
Nitre	Prešove	Martine	Banskej Bystrici	Trnave

g) Najväčšie sídlisko na Slovensku sa nachádza v ...

a)	b)	c)	d)	e)
Bratislave	Banskej Bystrici	Nitre	Košiciach	Prešove

h) Mesto pod Urpínom je ... .

a)	b)	c)	d)	e)
Žilina	Prešov	Banská Bystrica	Martin	Trenčín

i) Pojmy Pyramída, Zobor, R1 patria k mestu ... .

a)	b)	c)	d)	e)
Bratislava	Trnava	Trenčín	Banská Bystrica	Nitra

j) Múzeum Solivar môžeš navštíviť v meste ... .

a)	b)	c)	d)	e)
Prešov	Košice	Trenčín	Bratislava	Martin



k) Ústavný súd sídli v ... .

a)	b)	c)	d)	e)
Košiciach	Bratislave	Trnave	Nitre	Banskej Bystrici

l) Istropolis bol kedysi názvom ... .

a)	b)	c)	d)	e)
Banskej Bystrice	Žiliny	Trenčina	Nitry	Bratislavy

8. Janko má v izbe zavesený kalendár s nočnými fotografiami našich krajských miest. Urči správne názvy miest, ktorých fotografie sú na jednotlivých stranách kalendára.



**JANUÁR -**

Banská Bystrica	Prešov	Nitra	Trenčín	Košice	Trnava	Bratislava	Žilina
-----------------	--------	-------	---------	--------	--------	------------	--------

**APRÍL -**

Trenčín	Banská Bystrica	Nitra	Bratislava	Žilina	Trnava	Prešov	Košice
---------	-----------------	-------	------------	--------	--------	--------	--------

**FEBRUÁR -**

Košice	Nitra	Bratislava	Prešov	Žilina	Trenčín	Banská Bystrica	Trnava
--------	-------	------------	--------	--------	---------	-----------------	--------

**MÁJ -**

Košice	Trenčín	Nitra	Trnava	Bratislava	Žilina	Prešov	Banská Bystrica
--------	---------	-------	--------	------------	--------	--------	-----------------

**MAREC -**

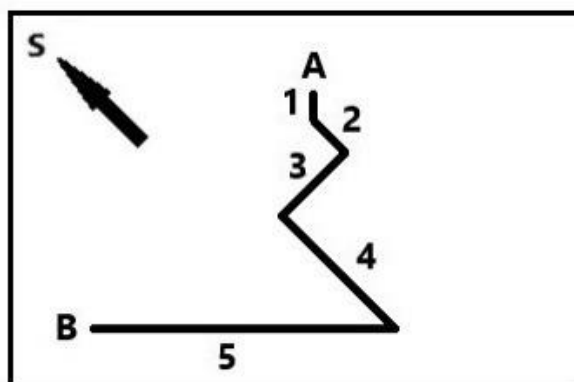
Bratislava	Nitra	Trnava	Žilina	Košice	Banská Bystrica	Trenčín	Prešov
------------	-------	--------	--------	--------	-----------------	---------	--------

**JÚN -**

Bratislava	Trenčín	Košice	Žilina	Nitra	Trnava	Prešov	Banská Bystrica
------------	---------	--------	--------	-------	--------	--------	-----------------

9. V nasledujúcom nákrese je zakreslená trasa turistu, ktorý sa po výstupe na vrch hory vracal späť (z bodu **A** do bodu **B** ).  
 a) Priradiť k jednotlivým svetovým stranám správne čísla úsekov trasy.

na Z -	1	2	3	4	5	žiadny
na S -	1	2	3	4	5	žiadny
na V -	1	2	3	4	5	žiadny
na JV -	1	2 a 4	3	4	5	žiadny
na J -	1	2 a 4	3	3 a 4	žiadny	
na JZ -	1	2	3	4	5	žiadny
na SZ -	2 a 3	2 a 4	3 a 4	5	žiadny	



- b) Cestou dolu stretol turista postupne tri skupiny iných turistov, ktorí na vrchol ešte len vystupovali (po tej istej trase). Akým smerom kráčali turisti, ktorých stretol ...

v úseku 3? - na 

SV	JV	Z	V
----	----	---	---

v úseku 4? - na 

S	J	JV	SZ
---	---	----	----

v úseku 5? - na 

JV	SZ	V	Z
----	----	---	---

- c) Turisti vystupujúci na vrch **úsek** 2 kráčali pod azimutom 

315°	135°	180°	0°
------	------	------	----

.  
 Turisti vystupujúci na vrch **úsek** 1 kráčali pod azimutom 

225°	45°	0°	180°
------	-----	----	------

.

- d) Na nasledujúcom obrázku je dokreslená trasa výstupu turistov do nákreсу vrchu pri pohľade z boku. Sú pravdivé nasledujúce tvrdenia?

V úseku 1 išli turisti celý čas po tej istej vrstevnici.

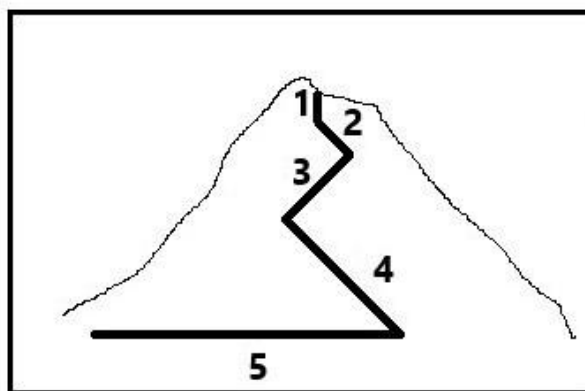
a)	b)
PRAVDA	NEPRAVDA

Najviac vrstevníc prekročili turisti v úseku 4 .

a)	b)
PRAVDA	NEPRAVDA

V úseku 3 prekročili turisti viac vrstevníc ako v úseku 2 .

a)	b)
PRAVDA	NEPRAVDA



### 10. PRI RIEŠENÍ TEJTO ÚLOHY POUŽI ATLAS SVETA!

Ondrej bol s rodičmi na dovolenke v zahraničí. Priniesol si odtiaľ tričko s mapou európskej krajiny (na obrázku), ktorú navštívili. Pomocou atlasu sveta nájdi správne pojmy v charakteristikách tejto krajiny.

a) Prevládajúce podnebie v krajine je  /  / .

b) Štát hraničí

/  /

c) V krajine sa ťaží  /  / .

d) Druhým najväčším mestom štátu je mesto

/  / .

e) Najvyšším vrchom krajiny je

/  / .

f) V krajine prevláda

/  /  kresťanské  
náboženstvo.

g) Teraz je tam o

/  /

/  ako v Londýne.

h) Eubója je v štáte druhý najväčší  /  / .

i) Cez krajinu prechádza ten istý poludník ako cez  /  / .

j) Čo označujú názvy miest, ktoré Ondrej navštívil? Vytvor správne dvojice.

1. Skópelos	ostrov
2. Taygetos	pohorie
3. Pýrgos	mesto



### 11. PRI RIEŠENÍ TEJTO ÚLOHY POUŽI ATLAS SLOVENSKA!

Vytvor štvorice pojmov, ktoré patria k sebe.

**POZOR! Pojem považujeme za zatriedený až vtedy, keď sa pri ňom objaví modrý špendlík. Ak je pojem správne zatriedený už v zadaní, treba ním len trochu pohnúť.**

1. Podunajská pahorkatina .....	Dubno	Dubník	Dubovce	Dúbrava
2. 19° 30' východnej dĺžky .....	Dubno	Dubník	Dubovce	Dúbrava
3. Cerová vrchovina .....	Dubno	Dubník	Dubovce	Dúbrava
4. 17° 15' východnej dĺžky .....	Dubno	Dubník	Dubovce	Dúbrava
5. okres Nové Zámky .....	Dubno	Dubník	Dubovce	Dúbrava
6. okres Skalica .....	Dubno	Dubník	Dubovce	Dúbrava
7. Podtatranská kotlina .....	Dubno	Dubník	Dubovce	Dúbrava
8. 20° východnej dĺžky .....	Dubno	Dubník	Dubovce	Dúbrava
9. 18° 24' východnej dĺžky .....	Dubno	Dubník	Dubovce	Dúbrava
10. Chvojnická pahorkatina .....	Dubno	Dubník	Dubovce	Dúbrava
11. okres Rimavská Sobota .....	Dubno	Dubník	Dubovce	Dúbrava
12. okres Liptovský Mikuláš .....	Dubno	Dubník	Dubovce	Dúbrava

**KONIEC TESTU!**