

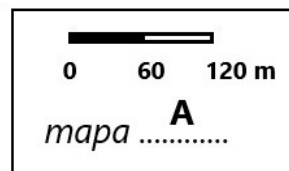
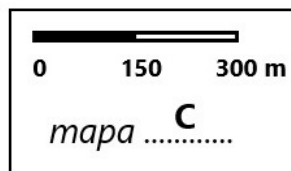
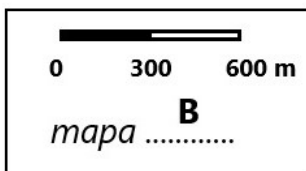
Okresné kolo Geografickej olympiády pre ZŠ a 8-ročné gymnáziá
53. ročník, školský rok 2024/2025
Písomný test pre kategóriu G – ZŠ (5. ročník)
 *Monotematická a teoretická časť - riešenia

1. *a) Brdo, b) hoľa, c) Baba, d) dolina 4 b.
2. *a) Demänovská, Dobšinská (na poradí nezáleží), b) Driny, c) Domica,
d) Ochtinská (1 b.) aragonitová (1 b.) 6 b.
3. Za každú hrubo vytlačenú poznámku zapísanú do správneho dňa udeliť 1 b.

3.	Po	čakať p. Jamesa na letisku
4.	Ut	
5.	St	
6.	Št	
7.	Pi	
8.	So	
9.	Ne	

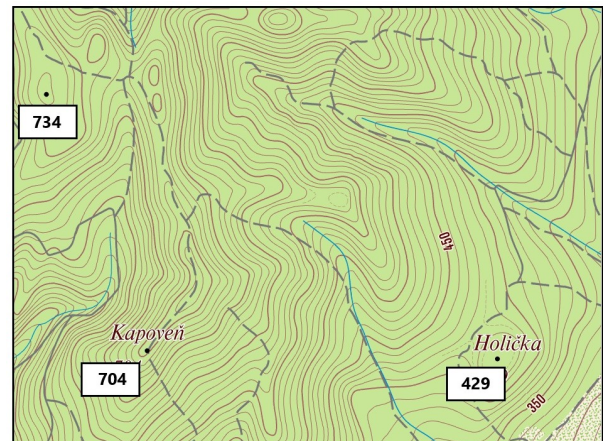
3.	Po	
4.	Ut	9:00 - odlet na Niue
5.	St	návrat na Tongatapu
6.	Št	
7.	Pi	
8.	So	
9.	Ne	

- c) 11:00 hod. 3 b.
4. a) Opraviť podľa obrázka. (3 b.)



- b) A, c) A, d) B, e) B,
f) 65 m, g) 100 m, h) 980 m x 1060 m 10 b.
5. a) ÁNO, b) ÁNO, c) ÁNO, d) NIE, e) ÁNO, f) ÁNO, g) ÁNO 7 b.
6. a) obyvateľov Islandu, b) obyvateľov Neapola, c) obyvateľov Grécka, d) Havajčanov 4 b.
7. a) opraviť podľa obrázka vpravo (3 b.)

- b) Terén znázornený v obdĺžniku A je strmší ako terén znázornený v obdĺžniku B. (1 b.)
- c) z bodu H do bodu G
- d) z bodu D do bodu C
- e) z bodu F do bodu E



8. magnitúdom (uznať aj magnitúdou), Richterovej, Seizmológovia, hypocentrum, epicentrum 7 b.
9. a) V, b) meander, c) dolnom, d) lievika 5 b.

Spolu: 4 b.

Zdroje obrázkov:

<https://www.flickr.com/photos/53113704@N03/21651628359/in/photostream/>

https://www.google.com/maps/@48.1633375,17.1385336,17.67z?entry=ttu&g_ep=EgoyMDI1MDIwMi4wIKXMDSoASAFQAw%3D%3D

(upravené)

<https://mapy.dennikn.sk/> (upravené)

Autor: Mgr. Gabriela Nováková, PhD.

Recenzent: RNDr. Hilda Kramáreková, PhD.

Slovenská komisia Geografickej olympiády

Vydal: NIVAM – Národný inštitút vzdelávania a mládeže, Bratislava 2025

50 b.