

**Okresné kolo Geografickej olympiády pre ZŠ a 8-ročné gymnáziá**  
**53. ročník, školský rok 2024/2025**  
**Písomný test pre kategóriu F – ZŠ (6. a 7. ročník) a OG (1. a 2. ročník)**  
 \*Monotematikus és elméleti rész - feladatok

Név: .....  
 Iskola: ..... Osztály: .....  
 Elért pontszám: ..... Ebből a monotematikus részben (\*): .....

1. \*A hóviszonyokat szemléltető táblázatban egészítsd ki a hiányzó részeket a síterepek megnevezéseiben!

	Sítérep megnevezése:	Hóvastagság:	Körülmények:
a)	Tatranská L.....	30 cm	Nagyon jók
b)	Martinské .....	25 cm	Nagyon jók
c)	Malinô .....	15 cm	Jók
d)	Valčianska .....	10 cm	Korlátozottak

2. \*A barlangok Szlovákia legjelentősebb természeti kincsei közé tartoznak. Írd be a nevüket a következő mondatokba!

a) Szlovákiában három látogatható barlang található az Alacsony-Tátrában. Ezek a következők:

.....,  
 ..... és a(z)  
 .....

b) A Styx földalatti folyón a(z) .....-barlangban csónakázhatunk.

c) Az egyedi barlangdíszt, ami a jobb oldali képen is látható, a világon csak néhány helyen fordul elő. Ezek közé tartozik a szlovákiai O.....-i .....-barlang is.



3. Misi betegség miatt hiányzott az iskolából, amikor a földrajz órán a szavannákról beszélgettek. Hogy ne maradjon le, úgy döntött, egy osztálytársától lemásolja a szavannákkal kapcsolatos jegyzeteket. Osztálytársa füzetében azonban nem tudta elolvasni a szavak egy részét, így amikor a jegyzeteket a füzetébe másolta, végül minden sorba beszúrt egy-egy helytelen kifejezést. Húzd át ezeket a kifejezéseket!

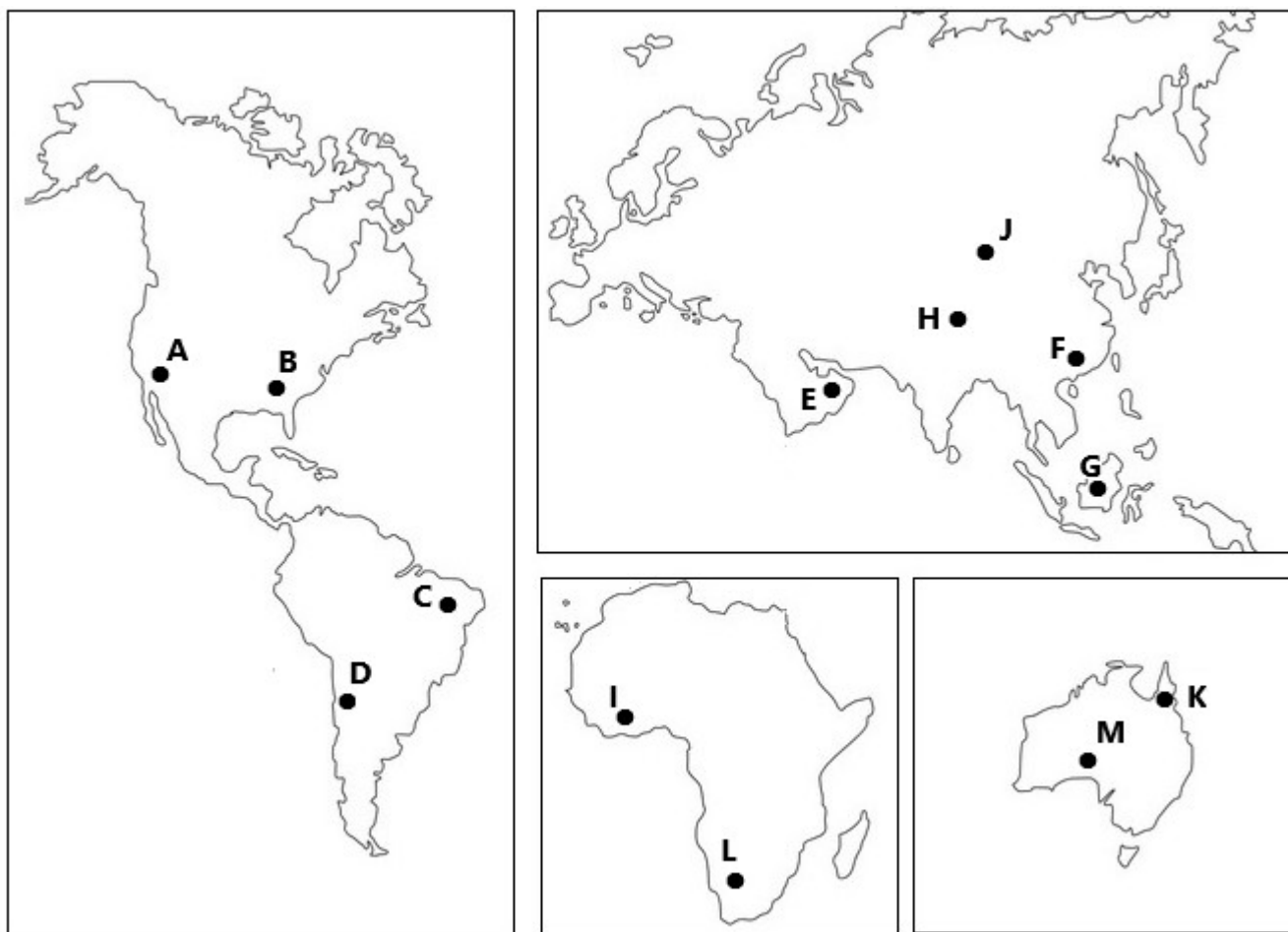
- a) *Növényevők: antilop, bölény, gnú, zebra, víziló*  
 b) *Ragadozók: jaguár, leopárd, tigris, puma, oroszlán*  
 c) *Dögevők: marabu, keselyű, kondorkeselyű, hiéna*

4. Igazak-e a következő állítások a **sivatagokról**? Karikázd be az IGEN-t vagy a NEM-et.

- |  |      |     |
|--|------|-----|
| a) A forró sivatagok az északi és a déli féltekén a 20. és 30. szélességi kör között találhatók. | IGEN | NEM |
| b) A Szahara Afrika területének körülbelül egyharmadát foglalja el.                              | IGEN | NEM |
| c) A sivatagok magas légnyomású területeken találhatók.  | IGEN | NEM |
| d) Az éves csapadékmennyiség a sivatagokban általában 600-800 mm.                                | IGEN | NEM |
| e) A sivatagokban a levegő hőmérséklete soha nem csökken 0 °C alá.                               | IGEN | NEM |
| f) A homokból és homokdűnékből álló sivatagokat ergnek nevezzük.                                 | IGEN | NEM |
| g) Dél-Amerikában és Dél-Afrikában a sivatagok a nyugati partok mentén húzódnak.                 | IGEN | NEM |
| h) Az Atacama-sivatag többnyire sziklás.   | IGEN | NEM |

5. Figyelmesen nézd meg a következő térkép-vázlatokat, amelyeket egy tanteremben egy mágnes táblára helyeztek. A diákoknak pontokat kellett elhelyezniük bennük azokon a helyeken, amelyek sivatagban találhatóak. Minden diáknak egy betű állt rendelkezésére. Hét tanuló helyesen helyezte el a betűjét. Melyik betűk voltak ezek? Írd be őket a következő üres négyzetekbe!



6. A következő többirányú rejtvény a világ nyolc ismert sivatagának és félsivatagának a nevét tartalmazza. **[Szlovákul!]**

a) Keresd meg, húzd át és írd őket a többirányú rejtvény mellé!

I	B	O	G	S	D	M
N	T	I	E	A	Ú	U
G	E	H	M	H	F	K
V	S	K	Á	A	A	A
Á	P	Ú	Š	R	N	R
A	M	A	C	A	T	A
D	A	H	N	Á	Ť	K

.....  
.....  
.....  
.....  
.....

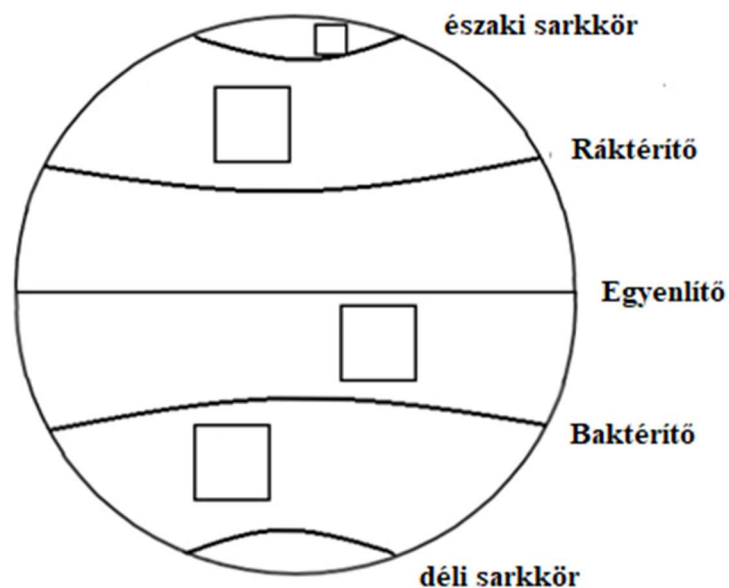
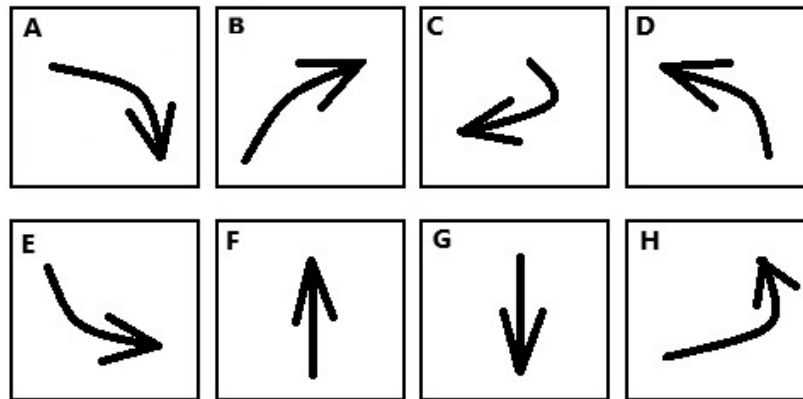
b) Azok a betűk, amelyeket egyetlen névben sem használtak, egy kevésbé ismert sivatag nevét alkotják. Melyik ez a sivatag?  
-----

c) Hol található ez a sivatag? Karikázd be a helyes választ:

*Afrikában*      *Ázsiában*      *Ausztráliában*      *Amerikában*

7. A Föld egyes éghajlati övezeteiben a Föld felszínéhez közel egész évben állandó szelek fújnak.

a) Írd be a földgömbbe rajzolt négyzetekbe a helyes széliránynak megfelelő betűt!



8. Karikázd be a következő, a légköri áramlásokra vonatkozó állításokban a kiemelt kifejezések közül azokat, amelyeket felhasználva igaz állításokat kapunk!

- A Ráktérítő és az Egyenlítő között egész évben szél fúj, amit *északkeleti* / *délkeleti* / *északnyugati* / *délnyugati* passzátszélnek nevezünk.
- A trópusok és a sarkkörök között folyamatosan áramló szeleket *keleti* / *nyugati* szeleknek nevezzük.
- A sarkok és az Északi-sarkkör közötti területeken ún. *keleti* / *nyugati* / *déli* / *északi* szelek fújnak.
- Az ázsiai szárazföld déli részén júliustól szeptemberig tart a monszun, amely *a tenger felől a szárazföldre* / *a szárazföldről a tenger felé* áramlik és *száraz időt* / *heves esőzést* hoz. *Nyári* / *Téli* monszunnak hívjuk.
- Dél-Ázsiából *száraz* / *nedves* téli monszun áramlik az Indiai-óceán fölé, ami India éghajlatát *decembertől májusig* / *februártól júliusig* befolyásolja.

Autor: Mgr. Gabriela Nováková, PhD.

Recenzent: RNDr. Hilda Kramáreková, PhD.

Preklad: RNDr. Ferenc Zirig

Slovenská komisia Geografickej olympiády

Vydal: NIVAM– Národný inštitút vzdelávania a mládeže, Bratislava 2025