

Okresné kolo Geografickej olympiády pre ZŠ a 8-ročné gymnáziá
53. ročník, školský rok 2024/2025
Písomný test pre kategóriu F – ZŠ (6. a 7. ročník) a OG (1. a 2. ročník)
 *Monotematická a teoretická časť - úlohy

Meno a priezvisko:
 Škola: Trieda:
 Počet bodov: Z toho monotematická časť (*):

1. *Doplň vynechané pojmy v názvoch lyžiarskych stredísk v tabuľke so snehovými správmi.

	Názov:	Sneh:	Podmienky:
a)	Tatranská L.....	30 cm	Veľmi dobré
b)	Martinské	25 cm	Veľmi dobré
c)	Malinô	15 cm	Dobré
d)	Valčianska	10 cm	Obmedzené

2. *Medzi najvýznamnejšie prírodné pamiatky Slovenska patria jaskyne. Doplň ich názvy do nasledujúcich charakteristík.

- a) Tri sprístupnené jaskyne na Slovensku sa nachádzajú v pohorí Nízke Tatry. Sú to:

.....
 a

- b) Plavbu po podzemnej rieke Styx môžeme absolvovať v

- c) Unikátnu jaskynnú výzdobu, akú vidíš na obrázku vpravo, môžeme vidieť iba na niekoľkých miestach na svete. Patrí k nim aj naša *O*..... jaskyňa.



3. Miško kvôli chorobe chýbal v škole, keď na geografii preberali savany. Aby nebol pozadu, rozhodol sa odpísať si poznámky o savanách od spolužiaka. Niektoré slová v spolužiakovom zošite však nevedel prečítať, a tak sa mu pri prepisovaní poznámok do svojho zošita do každého riadku priplietol jeden nesprávny pojem. Vyčiarkni ho!

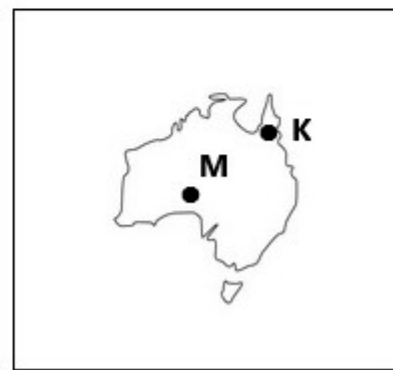
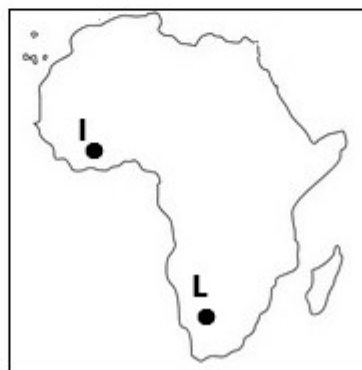
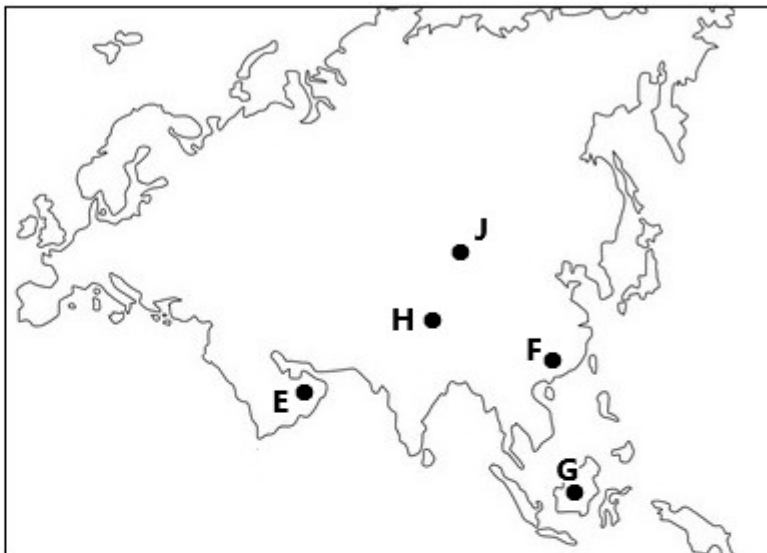
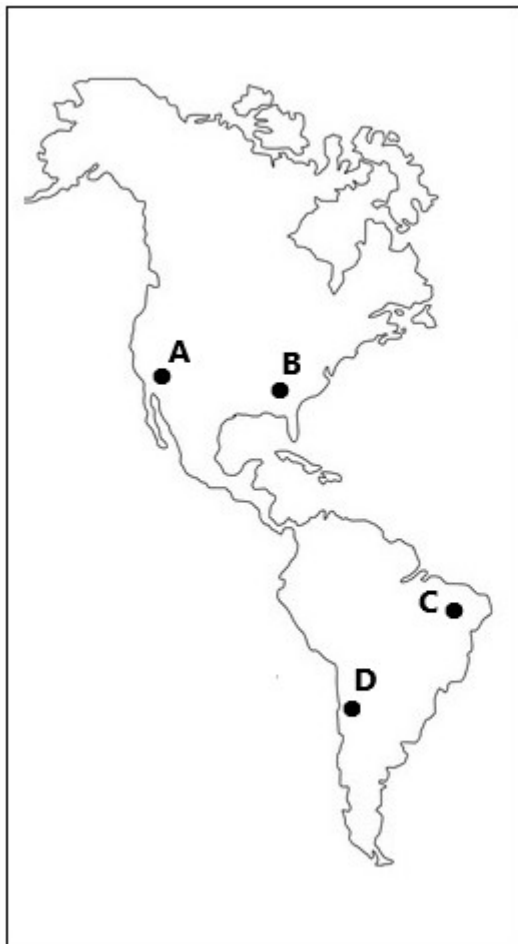
- a) *Bylínožravce: antilopa, bizón, pakôň, zebra, hroch*
 b) *Dravce: jaguár, leopard, tiger, puma, lev*
 c) *Zdochlínožravce: marabu, sup, kondor, hyena*

4. Sú pravdivé nasledujúce tvrdenia o **púšťach**? Zakrúžkuj ÁNO alebo NIE.

- | | | |
|---|-----|-----|
| a) Horúce púšte sa rozkladajú na severnej i južnej pologuli medzi 20. a 30 rovnobežkou. | ÁNO | NIE |
| b) Sahara zaberá asi tretinu územia Afriky. | ÁNO | NIE |
| c) Púšte sa nachádzajú v oblastiach vysokého tlaku vzduchu. | ÁNO | NIE |
| d) Ročný úhrn zrážok na púšťach sa zvyčajne pohybuje v rozpätí 600 až 800 mm ročne. | ÁNO | NIE |
| e) Na púšťach teplota vzduchu nikdy neklesne po 0 °C. | ÁNO | NIE |
| f) Púšte tvorené pieskom a piesočnými dunami majú názov ergy. | ÁNO | NIE |
| g) V Južnej Amerike a v južnej Afrike sa púšte rozkladajú na západných pobrežiach. | ÁNO | NIE |
| h) Púšť Atacama je zväčša kamenistá. | ÁNO | NIE |

5. Pozorne si pozri nasledujúce obrysové mapy, ktoré boli v jednej triede umiestnené na magnetickej tabuli. Žiaci mali do nich umiestniť body do tých miest, ktoré sa nachádzajú na púšťach. Každý vyvolaný žiak mal k dispozícii jedno písmeno. Sedem žiakov umiestnilo svoje písmeno správne. Ktoré písmená to boli? Doplň ich do nasledujúcich prázdnych štvorcov.

□ □ □ □ □ □ □



6. V nasledujúcej viacsmerovke sú ukryté názvy ôsmich známych púští a polopúští sveta.

a) Nájdi ich, vyčiarkni a vypíš vedľa viacsmerovky.

I	B	O	G	S	D	M
N	T	I	E	A	Ú	U
G	E	H	M	H	F	K
V	S	K	Á	A	A	A
Á	P	Ú	Š	R	N	R
A	M	A	C	A	T	A
D	A	H	N	Á	Ť	K

.....

.....

.....

.....

.....

b) Písmená z viacsmerovky, ktoré neboli použité v žiadnom názve, vytvoria pomenovanie menej známej púšte.

Napíš ho: _____

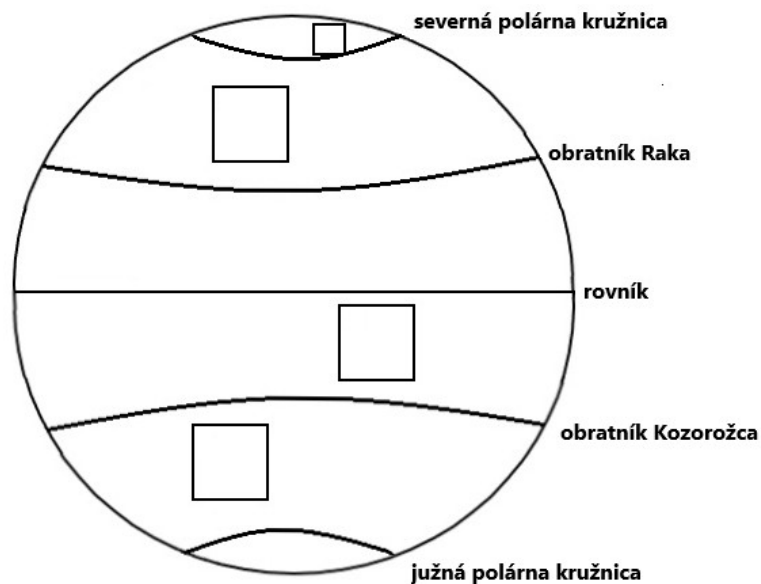
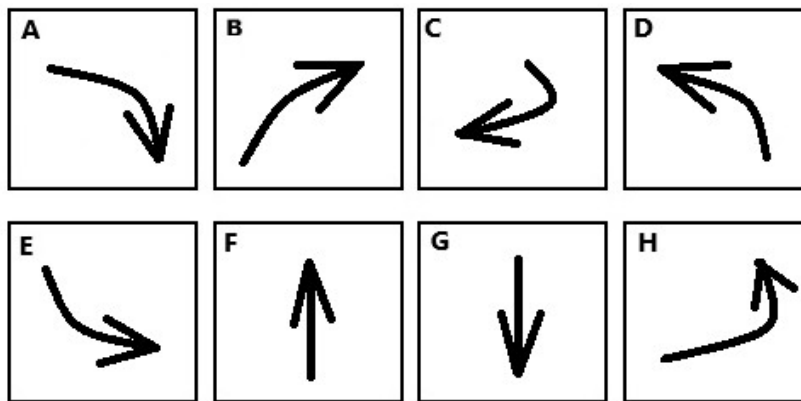
c) Kde sa táto púšť nachádza? Zakrúžkuj správnu odpoveď:

v Afrike v Ázii v Austrálii v Amerike

7. V jednotlivých podnebných pásmach Zeme vanú pri zemskom povrchu počas roka pravidelné vetry.

a) Doplň do štyroch štvorcov v obrázku zemegule písmená, ktoré označujú správny smer tohto prúdenia.

Vyberaj z:



8. V nasledujúcich tvrdeniach o prúdení vzduchu v atmosfére z vyznačených pojmov zakrúžkuj tie, ktoré vytvoria pravdivé výroky.

- Medzi obratníkom Raka a rovníkom prúdi počas roka vietor, ktorý nazývame *severovýchodný / juhovýchodný / severozápadný / juhozápadný* pasát.
- Stále vanúce vetry medzi obratníkmi a polárnymi kružnicami sa nazývajú *východné / západné* vetry.
- V oblastiach medzi pólmi a polárnymi kružnicami vanú takzvané *východné / západné / južné / severné* vetry.
- V južnej časti pevninskej Ázie vanie od júla do septembra monzún, ktorý smeruje *z mora na pevninu / z pevniny na more* a prináša *suché počasie / výdatné zrážky*. Nazývame ho *letný / zimný* monzún.
- Z južnej Ázie prúdi nad Indický oceán *suchý / vlhký* zimný monzún. Podnebie Indie ovplyvňuje *od decembra do mája / od februára do júla*.

Autor: Mgr. Gabriela Nováková, PhD.
Recenzent: RNDr. Hilda Kramáreková, PhD.
Slovenská komisia Geografickej olympiády
Vydal: NIVAM– Národný inštitút vzdelávania a mládeže, Bratislava 2025