

**Školské kolo Geografickej olympiády pre ZŠ a 8-ročné gymnáziá**  
**53. ročník, školský rok 2024/2025**  
**Písomný test pre kategóriu E – ZŠ (8. a 9. ročník) a OG (3. a 4. ročník)**

Podklady k online-testu

---

**MONOTEMATICKÁ a TEORETICKÁ ČASŤ**

**5 b.**

Utvor správne dvojice: k lokalitám cestovného ruchu prirad' dôvod, kvôli ktorému ich turisti navštevujú.

Košice – zoologická záhrada

Levoča – významné pútnické miesto

Zuberec – skanzen

Piešťany – kúpele

Východná – folklórne slávnosti

---

**5 b.**

Poznáš naše najnavštevovanejšie hrady a zámky? Zorad' nasledujúce písmená tak, aby z nich vznikli názvy najznámejších z nich.

- a) D – E – V – Í – N
  - b) B – E – C – K – O – V
  - c) S – T – R – EČ – N – O
  - d) U – H – RO – V – E – C
  - e) ČE – RV – EN – Ý KA – ME – Ň
- 

**7 b.**

K nasledujúcim kotlinám prirad' správne charakteristiky.

Hornonitrianska kotlina – ukončená ťažba hnedého uhlia

Juhoslovenská kotlina – jej súčasťou je Lučenská kotlina

Košická kotlina – tretie najväčšie mesto na Slovensku

Žilinská kotlina – kúpele v Rajeckých Tepliciach

Zvolenská kotlina – rýchlostná cesta R1

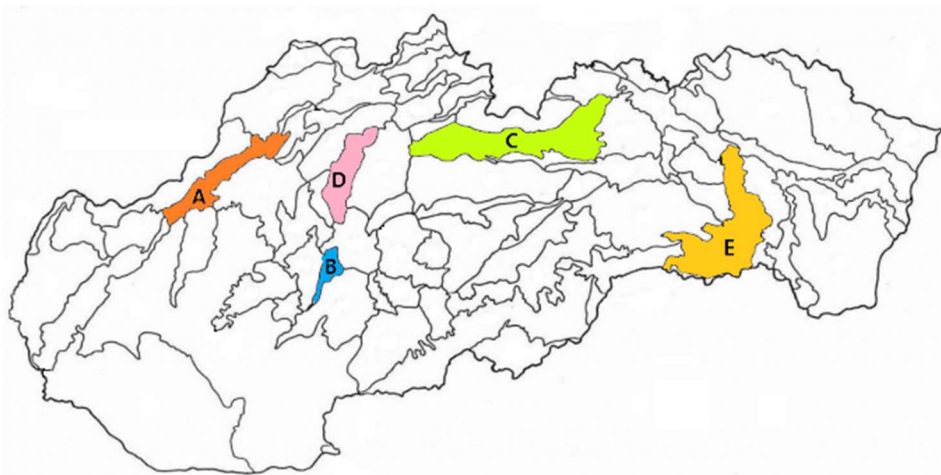
Hornádska kotlina – historický región Spiš

Rožňavská kotlina – výhľad na Krásnu Hôrku

---

**10 b.**

Na mape sú farebne vyznačené niektoré kotliny Slovenska. Vyber správne pojmy v ich charakteristikách.



Písmeno **A** na mape označuje [Považské podolie / Myjavskú kotlinu / Trenčiansku kotlinu]. Nachádzajú sa tam napríklad mestá Trenčín, Dubnica nad Váhom, [Ilava / Piešťany / Hlohovec].

Písmenom **B** je označená [Žiarska / Rožňavská / Zvolenská] kotlina. Preteká ňou rieka [Hron / Hornád / Slaná].

Podtatranská kotlina je označená písmenom **C**. Člení sa na [Liptovskú / Ružomerskú / Dolnokubínsku] a [Popradskú / Beliansku / Važeckú] kotlinu.

Písmeno **D** je umiestnené v [Turčianskej / Žilinskej / Hornonitrianskej] kotline. Táto kotlina je obklopená pohoriami Malá Fatra a [Veľká Fatra / Nízke Tatry / Javorníky].

Písmeno **E** označuje [Košickú / Hornádsku / Pliešovskú] kotlinu. Táto kotlina na východe susedí [so Slanskými vrchmi / so Slovenským krasom / s Vihorlatskými vrchmi].

### 10 b.


Sú nasledujúce tvrdenia o slovenských kotlinách a mestách pravdivé? Vyber **ÁNO** alebo **NIE**.

Kotliny tvoria približne dve tretiny územia Slovenska.	ÁNO	NIE
Na území Oravskej kotliny sa nachádza najsevernejší bod Slovenskej republiky.	ÁNO	NIE
Košická kotlina je najvýchodnejšie položenou kotlinou Slovenska.	ÁNO	NIE
Mesto Kežmarok leží v Podtatranskej kotline.	ÁNO	NIE
Zvolen je najväčšie mesto vo Zvolenskej kotline.	ÁNO	NIE
Juhoslovenská kotlina má väčšiu rozlohu ako Podtatranská kotlina.	ÁNO	NIE
Z vrchu Dubeň máme výhľad na Žilinskú kotlinu.	ÁNO	NIE
Juhoslovenská kotlina má nižší priemerný ročný úhrn zrážok ako Hornádska kotlina.	ÁNO	NIE
Mesto Martin malo ešte pred 100 rokmi v názve slovo „svätý“.	ÁNO	NIE
Slovenská poľnohospodárska univerzita sídli v Nitre.	ÁNO	NIE


### 5 b.

Na medzinárodný deň detí deti súťažili v „poznávačke“ erbov našich najväčších miest. Ten, kto uhádol, ako vyzerá erb vybraného mesta, si mohol tetovačku vziať. Skús to aj ty. Označ obrázok, na ktorom je erb:

a) Košíc



b) Prešova



c) Trnavy



(Poznámka k riešeniu: v úlohách a) až c) je správny prvý erb v poradí.)

d) Janka získala tetovačku, na ktorej bol zobrazený baránok. Ktorému mestu erb patril?

Banskej Bystrici

Martinu

Trenčínu

e) Igor vyhral tetovačku, ktorú si hneď nalepil na ruku. Pri hre sa mu tetovačka ošúchala a večer mal na ruke už iba veľkú zelenú machuľu. Znak ktorého mesta získal Igor? erb Žiliny erb Nitry erb Martina

## 12 b.

Vyber správnu odpoveď.

a) Medzinárodné letisko má mesto ... .

Prešov

Žilina

Martin

Banská Bystrica

Trnava

b) „Mestom módy“ sme nazývali ... .

Bratislavu

Trenčín

Trnavu

Žilinu

Martin

c) Medzinárodného maratónu mieru sa môžeme zúčastniť v ... .

Bratislave

Banskej Bystrici

Nitre

Košiciach

Prešove

d) Titul „Slovenský Rím“ patrí k mestu ... .

Košice

Bratislava

Trnava

Nitra

Banská Bystrica

e) Múzeum slovenskej dediny sa nachádza v blízkosti mesta ... .

Martin

Bratislava

Trenčín

Košice

Trnava

f) Veľa významných osobností je pochovaných na Národnom cintoríne v ... .

Nitre

Prešove

Martine

Banskej Bystrici

Trnave

g) Najväčšie sídlisko na Slovensku sa nachádza v ... .

Bratislave

Banskej Bystrici

Nitre

Košiciach

Prešove

h) Mesto pod Urpínom je ... .

Žilina

Prešov

Banská Bystrica

Martin

Trenčín

i) Pojmy Pyramída, Zobor, R1 patria k mestu ... .

Bratislava

Trnava

Trenčín

Banská Bystrica

Nitra

j) Múzeum Solivar môžeš navštíviť v meste ... .

Prešov

Košice

Trenčín

Bratislava

Martin

k) Ústavný súd sídli v ... .

Košiciach

Bratislave

Trnave

Nitre

Banskej Bystrici

l) Istropolis bol kedysi názvom ... .

Banskej Bystrice

Žiliny

Trenčina

Nitry

Bratislavy

## 6 b.

Janko má v izbe zavesený kalendár s nočnými fotografiami našich krajských miest. Urči správne názvy miest, ktorých fotografie sú na jednotlivých stranách kalendára.



**JANUÁR**



**FEBRUÁR**



**MAREC**



**APRÍL**



**MÁJ**



**JÚN**

**JANUÁR** - [Bratislava / Banská Bystrica / Košice / Nitra / Prešov / Trenčín / Trnava / Žilina].

**FEBRUÁR** - [Bratislava / Banská Bystrica / Košice / Nitra / Prešov / Trenčín / Trnava / Žilina].

**MAREC** - [Bratislava / Banská Bystrica / Košice / Nitra / Prešov / Trenčín / Trnava / Žilina].

**APRÍL** - [Bratislava / Banská Bystrica / Košice / Nitra / Prešov / Trenčín / Trnava / Žilina].

**MÁJ** - [Bratislava / Banská Bystrica / Košice / Nitra / Prešov / Trenčín / Trnava / Žilina].

**JÚN** - [Bratislava / Banská Bystrica / Košice / Nitra / Prešov / Trenčín / Trnava / Žilina].

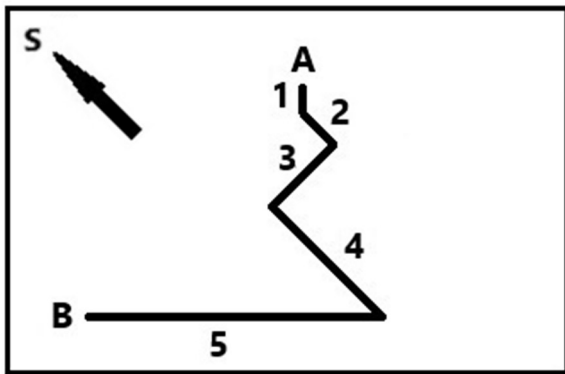
---

### **PRAKTICKÁ ČASŤ**

**15 b.**

V nasledujúcom nákrese je zakreslená trasa turistu, ktorý sa po výstupe na vrch hory vracal späť (z bodu **A** do bodu **B**).

a) Prirad' k jednotlivým svetovým stranám správne čísla úsekov trasy.



- na Z – [3 / 1 / 2 / 4 / 5 / žiadny]
- na S – [žiadny / 1 / 2 / 3 / 4 / 5]
- na V – [žiadny / 1 / 2 / 3 / 4 / 5]
- na JV – [žiadny / 1 / 2 a 4 / 3 / 4 / 5]
- na J – [2 a 4 / 1 / 3 / 3 a 4 / žiadny]
- na JZ – [1 / 2 / 3 / 4 / 5 / žiadny]
- na SZ – [5 / 2 a 3 / 3 a 4 / 2 a 4 / žiadny]

b) Cestou dolu stretol turista postupne tri skupiny iných turistov, ktorí na vrchol ešte len vystupovali (po tej istej trase). Akým smerom kráčali turisti, ktorých stretol ...

v úseku 3? – na [V / Z / SV / JV]

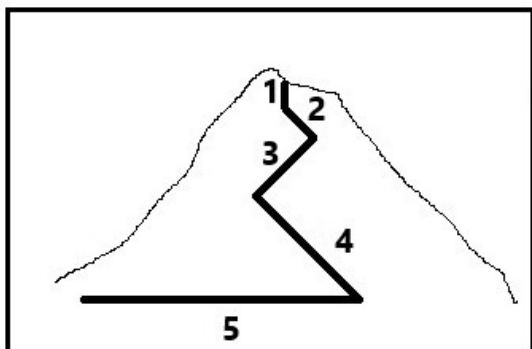
v úseku 4? – na [S / J / JV / SZ]

v úseku 5? – na [JV / SZ / V / Z]

c) Turisti vystupujúci na vrch **úsekom 2** kráčali pod azimutom [0° / 180° / 315° / 135°].

Turisti vystupujúci na vrch **úsekom 1** kráčali pod azimutom [45° / 0° / 180° / 225°].

d) Na nasledujúcom obrázku je dokreslená trasa výstupu turistov do nákrešu vrchu pri pohľade z boku. Sú pravdivé nasledujúce tvrdenia?



V **úseku 1** išli turisti celý čas po tej istej vrstevnici.

PRAVDA      NEPRAVDA

Najviac vrstevníc prekročili turisti v **úseku 4**.

PRAVDA      NEPRAVDA

V **úseku 3** prekročili turisti viac vrstevníc ako v **úseku 2**.

PRAVDA      NEPRAVDA

13 b .

**PRI RIEŠENÍ TEJTO ÚLOHY POUŽI ATLAS SVETA!**

Ondrej bol s rodičmi na dovolenke v zahraničí. Priniesol si odtiaľ tričko s mapou európskej krajiny (na obrázku), ktorú navštívili. Pomocou atlasu sveta nájdí správne pojmy v charakteristikách tejto krajiny.

a) Prevládajúce podnebie v krajine je [subtropické / tropické / mierne].

b) Štát hraničí [so Severným Macedónskom / s Kosovom / s Rumunskom].

c) V krajine sa ťaží [ropa / striebro / urán].

- d) Druhým najväčším mestom štátu je mesto [Solún / Téby / Édessa].
- e) Najvyšším vrchom krajiny je [Olymp / Svätý vrch Atos / Akropolis].
- f) V krajine prevláda [pravoslávne / katolícke / protestantské] kresťanské náboženstvo.
- g) Teraz je tam o [dve hodiny / jednu hodinu / tri hodiny] [viac / menej] ako v Londýne.
- h) Eubója je v štáte druhý najväčší [ostrov / polostrov / záliv].
- i) Cez krajinu prechádza ten istý poludník ako cez [Michalovce / Viedeň / Nikóziu].
- j) Čo označujú názvy miest, ktoré Ondrej navštívil? Vytvor správne dvojice.

Taygetos – pohorie

Pýrgos – mesto

Skópelos – ostrov



---

## 12 b.

### PRI RIEŠENÍ TEJTO ÚLOHY POUŽI ATLAS SLOVENSKA!

Vytvor štvorice pojmov, ktoré patria k sebe.

**Dubno** – okres Rimavská Sobota – 20° východnej dĺžky – Cerová vrchovina

**Dubník** – okres Nové Zámky – 18° 24' východnej dĺžky – Podunajská pahorkatina

**Dubovce** – okres Skalica – 17° 15' východnej dĺžky – Chvojnická pahorkatina

**Dúbrava** – okres Liptovský Mikuláš – 19° 30' východnej dĺžky – Podtatranská kotlina

#### Zdroje obrázkov:

<https://www.e-obce.sk/erby.html> (upravené)

<https://eventland.eu/sk/bratislava-sk/>

<https://blog.relaxos.sk/trnava-slovensky-rim/>

<https://slovensko84.webnode.sk/kraje-slovenska-/trenciansky-kraj-/trencin/>

<https://www.facebook.com/photo/?fbid=2818145195100375&set=a.1606621829586057>

<http://www.obchod.pangea.sk/www-pangea-sk-e-shop/eshop/13-1-Magnetky-a-samolepky/0/5/893-Magnetka-Kosice-8-5-x-6cm-c-732-Dom-nocny>

<https://www.facebook.com/photo.php?fbid=2732768346956134&id=1505682712998043&set=a.1505688892997425>

<https://grecko.ezaz.eu/o-grecku/>

---

Autorka: Mgr. Gabriela Nováková, PhD.

Recenzentka: RNDr. Hilda Kramáreková, PhD.

Slovenská komisia Geografickej olympiády

Vydal: aSc Applied Software Consultants s.r.o. (EduPage), Bratislava 2025