

Slovenská komisia Dejepisnej olympiády

Krajské kolo Dejepisnej olympiády pre ZŠ a 8-ročné gymnáziá

16. ročník, školský rok 2023/24

Testové úlohy pre kategóriu C (9. ročník ZŠ a 4. ročník OG)

Megjegyzés: A monotematikus rész kérdéseit * jelöltük meg.

1.* A felsorolt várak- és kastélyok neveit sorold a térképen található számokhoz, amelyek meghatározzák és szemléltetik előfordulási helyüket. Írd a válaszlapra a megfelelő betű- és számkombinációt.

a) Vöröskő – vára

b) Zboró/Zborov – vára

c) Kékkő – vára

d) Oroszlánkő/Vršatec – vára

e) Árva /Oravský vára

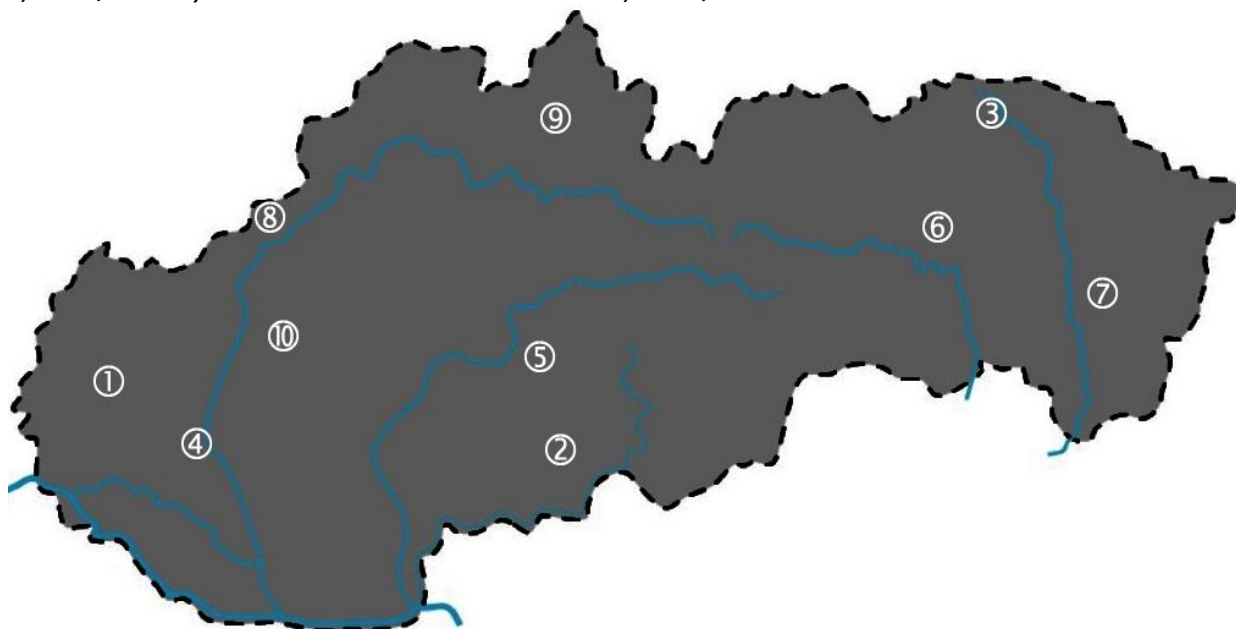
f) Nagymihályi/Michalovce – kastély

g) Nagytapolcsány – vára

h) Galánta – neogótikus kastély

ch) Végles/Vígľaš – kastély

i) Sáros/Šariš – vára



2.* Állítsd párba a felsorolt várakat/kastélyokat és a rájuk jellemző tényeket. Írd a válaszlapra a helyes betű- és számkombinációt. A felsorolt objektumok közül melyik látható a fényképen?



a) Divény/Divín

b) Fülek

c) Likava

d) Selmečbánya – Újvár

e) Appony/Oponice – nagy kastély

1) Thököly Imrét Közép-Magyarország királyává koronázták

2) a történelmi könyvtár felújítása

3) toronyként épült 4 sarokbástyával

4) Liptóból Árvaába vezető út mentén épült

5) a császári hedsereg felrobbantotta

3.* Figyelmesen olvasd el az alábbi, az árvai várral kapcsolatos kijelentéseket és állapítsd meg, hogy igazak-e vagy hamisak. A válaszlapon jelöld meg (karikázd be) az igen vagy a nem választ.

- a) A vár az Arriva néven ismert.
- b) Az első írásos emlék 1367-ből származik.
- c) Több mint 20 évig trencsényi Csák Máté uralta a várat.
- d) A 14. században a vár a Thurzó család birtokába került.
- e) A várat Pika (Pikay) Gáspár vezetésével elfoglalták a felkelők.


4.* Figyelmesen nézd meg az alábbi képeket. A felsorolt lehetőségek közül írd a válaszlapra azt az öt várat/kastélyt, amelyek nem láthatók a képen.

Divény/Divín – vár, Galánta – neogótikus kastély, Vittenc/Chtelnica – kastély, Likava – vár, Kékkő/Modrý Kameň – vár, Sáros/Šariš – vár, Topolcsány/Topoľčany – vár, Végles/Vígľaš – kastély, Oroszlánkő/Vršatec – vár, Garamszentkereszt/Žiar nad Hronom – kastély



5.* A körmöcbányai vár több épületből áll. Az alábbi lehetőségek közül válaszd ki a négy helyes megoldást. A válaszlapra írd a helyes megoldások betűjeleit.

- a) Szent Erzsébet -templom
- b) Szent András- csontház (karner)
- c) óratorony
- d) Szent Zsófia -kápolna
- e) Szent Mihály- csontház (karner)
- f) a Himmelreich-féle lakótorony
- g) Szent Katalin -templom
- h) a régi városháza átalakított épülete



6.* Állapítsd meg, hogy melyik négy állítás igaz Vittenc/Chtelnica kastélyáról. Írd a válaszlapra a helyes válaszok négy betűjelét.

- a) A régebbi épület helyén gótikus kastélyt építettek.
- b) A 18. században a kastélyt klasszicista stílusban átépítették.
- c) A négy szabadon álló rokokó pavilon a kastély körül egydülálló elemnek bizonyul.
- d) A régebbi épület helyén reneszánsz kastélyt építettek.
- e) A tíz szabadon álló rokokó pavilon a kastély körül egydülálló elemnek bizonyul.
- f) A 18. században a kastélyt barokk stílusban átépítették.
- g) A kastélyban a Hlinka Ifjúság Felsőbb Parancsnoki Iskolája működött.



7.* Válassz ki egy helyes lehetőséget a felsoroltak közül és írd a válaszlapra.

- a) **Melyik király levelében található az első írásos említés Végles/Vígľaš kastélyáról:**
Károly Róbert, Lajos, Zsigmond, Korvin Mátyás.
- b) **Melyik várban/kastélyban található a Bábművészeti Kultúrák és Játékok Múzeuma**
Bajmóc/Bojnice, Kékkő/Modrý Kameň, Vöröskő/Červený Kameň, Nagymihály/Michalovce.
- c) **Milyen alakú a Szepesi várban található hatalmas torony**
trapéz/lichobežníka, kör/kruhu, négyzet/štvorca.
- d) **Melyik évből származik az első írásos emlék a pozsonyi várról**
907, 1007, 1117, 1217.
- e) **Milyen alakú a Sáros vára központjában található hatalmas torony**
trapéz/lichobežníka, kör/kruhu, négyzet/štvorca.
- f) **Kiknek a betörése fenyegetett, amikor magépült a selmecebányai Újvár**
tatórok, kurucok, törökök, labancok.
- g) **Hogyan nevezték régen Zboró/Zborov várát**
Tekvica, Makovica, Jadernica, Muchovica.
- h) **Melyik vár található Divényhez/Divín legközelebb**
Csejte/Čachticiach, Fülel/Filakove, Sepes vára/Spišský hrad, Sáros vára/Šarišský hrad.

8.* A várakat, várkastélyokat és kastélyokat különböző módon használták ki. Írd a válaszlapra a hiányzó kifejezéseket.

- a) A bazini várkastélyban volt a borászok ... **A** ...
- b) A garamszentkereszti / Žiar nad Hronom volt a ... **B** ... főiskola.
- c) A nagymihályi/ Michalovce kastélyban 1945 után volt a Nemzeti**C**.....állomása.

9.* Figyelmesen olvasd el az alábbi kijelentéseket és állapítsd meg, hogy igazak-e vagy hamisak. A válaszlapon jelöld meg (karikázd be) az igen vagy a nem választ.

- a) A 11. században Magyarországon bevezették a vármegyerendszert.
- b) A vármegye élén az ispán állt, akit a nemesség választott.
- c) A vármegyerendszer a régebbi megyei vár rendszerét követte, amely még Nagy-Morávia idején jött létre.
- d) A legrégebbi megyékhez tartozott Pozsony, Nyitra, Zemplén, Óbars/Starý Tekov és Nagysáros/Velký Šaris.
- e) A mai Szlovákia területén 11 megye létezett.

10. Állapítsd meg, hogy az alábbi állítások közül, melyek az első világháborúhoz és annak következményeihez fűződnek, nem igazak. Írd a válaszlapra csak a két betűjelet.

- a) A háború a nyugati fronton jelentős területi nyereséggel járt és ez a jelenség állandó maradt.
- b) Új fegyvereket használtak a támadásoknál, úgymint harci repülőgépeket és tankokat.
- c) A háború óriási emberi veszteséget okozott.
- d) A civil lakosság anyagi hiányt szenvedett.
- e) Jelentős felfedezésekre és találmányokra került sor.
- f) A háború megerősítette a közép-európai birodalmakat.



11. Az első világháborút követő béketárgyalásokkal kapcsolatban írd a válaszokat a válaszlapra:

- a) Hány pontból állt az amerikai elnök Woodrow Wilson béketerve – 12, 13, 14?
- b) Melyik városban tárgyaltak a béketervről - Wannsee-ben, Párizsban, Bécsben?
- c) Mi volt a neve annak a szervezetnek, amely a békeszerződési tárgyalások alapján jött létre – Vöröskereszt, Egyesült Nemzetek Szövetsége, Népszövetség?

12. Egészítsd ki az alábbi szöveget és a hiányzó szavakat írd a válaszlapra.

*Az első világháború befejezése után több magyar katonai alakulat és a hivatalnokok nem akarták elhagyni az újonnan létrejött Csehszlovákiát, és a Magyar... **A**....Köztársaság kikiáltása után a magyar bolsevik hadsereg sikertelenül próbálta megszállni Szlovákiát. Az újabb támadás megelőzése érdekében Csehszlovákia Romániával és a leendő Jugoszláviával megkötötte az úgynevezett ...**B**... szövetséget. 1920-ban az állam elfogadta a Csehszlovák Köztársaság Alkományát, amely rögzítette a ...**C**....nemzet fogalmát. A csehszlovák kormány mellett Szlovákia igazgatására külön szlovák teljhatalmú**D**....hoztak létre.*

13. Mi a közös Mussoliniban és Hitlerben? Állapítsd meg, hogy az alábbi állítások igazak-e vagy hamisak. Azok az állítások igazak, amelyek mindkét diktátorra érvényesek. A válaszlapon jelöld meg (karikázd be) az igen vagy a nem választ.


- a) Mindketten ugyanabban az évben kerültek hatalomra.
- b) 1938-ban mindketten részt vettek a müncheni konferencián.
- c) Nemzetük vezéreinek nevezték magukat .
- d) A politikai pártjaik nevében be volt komponálva a szocializmus jelző.
- e) Nemzetüket felsőbbrendűnek tartották.

14. Sorold a politikus nevéhez a funkcióját. Írd a válaszlapra a helyes betű- és számkombinációt.

- | | |
|-----------------------------|---|
| a) Alois Rašín | 1) a csehszlovák kormány elnöke |
| b) Vavro Šrobár | 2) HSĽS /Hlinka Szlovák Néppártja elnöke |
| c) Samuel Zoch | 3) Csehszlovákia iskolaügyi minisztere |
| d) Matúš Dula | 4) Csehszlovákia hadügyminisztere |
| e) Eduard Beneš | 5) Pozsony főispánja |
| f) Andrej Hlinka | 6) Csehszlovákia egészségügyminisztere |
| g) Karel Kramář | 7) a Szlovák Nemzeti Párt/ SNS elnöke |
| h) Milan Rastislav Štefánik | 8) Csehszlovákia pénzügyminisztere |
| ch) Ivan Dérer | 9) a Csehszlovák Nemzeti Tanács főtitkára Párizsban |

15. Írd az alább felsorolt, Szlovákiában tevékenykedő művészek nevéhez azt a munkakört, amiben híressé váltak. Segítségül szolgál a mellékelt kép.

*Fridrich Weinwurm,
Ľudovít Fulla,
Ján Borodáč,
Karol Plicka*




16. Állapítsd meg, hogy az alábbi állítások igazak-e vagy hamisak. A válaszlapon jelöld meg (karikázd be) az igen vagy a nem választ.

- a) 1938 végén Szlovákiában a Hlinka Csehszlovák Néppártja vette át a hatalmat.
- b) Szlovákia autonómiáját 1938. december 6-án kiáltották ki.
- c) A bécsi döntés Németország, Olaszország, Nagy-Britannia és Franciaország elhatározása volt.
- d) A bécsi döntés következtében Szlovákia déli részét Magyarországhoz csatolták.
- e) Jozef Tiso a Hlinka Szlovák Néppártja radikális szárnyához tartozott.
- f) A fegyveres egységek- a Hlinka - gárda - is részt vettek az alapvető polgári jogok megsértésében.
- g) 1939 májusában Magyarország és Szlovákia úgynevezett „kis háborút“ folytatott.
- h) 1939 szeptemberében Szlovákia Németországhoz csatlakozott és megtámadta Lengyelországot.

17. Írd a válaszlapra az évszámot, amikor az alább felsorolt események megtörténtek. Két esetben le kell írni a teljes dátumot.

- a) légitámadás indítása Nagy-Britannia ellen
- b) Németország megtámadta a Szovjetuniót
- c) a szövetségesek normandiai partraszállása
- d) Németország feltétel nélküli kapitulációja
- e) Japán feltétel nélküli kapitulációja



Autori: PaedDr. Marek Bubeník, Mgr. Ľuboš Paller, Mgr. Štefan Podolinský

Recenzentka: Mgr. Barbora Kopuncová

Fotografie: Mgr. Ľuboš Paller, Mgr. Štefan Podolinský

Preklad: Ing. Veronika Zsideková

Vydal: NIVaM, 2024 a Slovenská komisia Dejepisnej olympiády